


Time: 10 Minutes	Paper Math 3	Total Marks: 10
------------------	--------------	-----------------

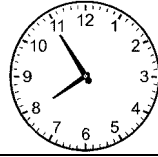
5th Month, 1st Week, 2nd Day	Syllabus: Unit 5. Page # 121.
------------------------------	-------------------------------

Q.1. Read the time from analog clock and write in the given boxes. ($2 \times 3 = 6$)

اینا لاک کلاک سے وقت پڑھیں اور ڈبوں میں لکھیں۔







Q.2. From given digital clock read time and write in the given boxes. ($2 \times 2 = 4$)

ڈیجیٹل کلاک سے وقت پڑھیں اور دیے ہوئے ڈبوں میں لکھیں۔



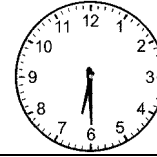


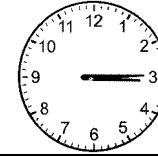
Time: 10 Minutes	Paper Math 3	Total Marks: 10
------------------	--------------	-----------------


5th Month, 1st Week, 2nd Day	Syllabus: Unit 5. Page # 121.
------------------------------	-------------------------------

Q.1. Read the time from analog clock and write in the given boxes. ($2 \times 3 = 6$)

اینا لاک کلاک سے وقت پڑھیں اور ڈبوں میں لکھیں۔







Q.2. From given digital clock read time and write in the given boxes. ($2 \times 2 = 4$)

ڈیجیٹل کلاک سے وقت پڑھیں اور دیے ہوئے ڈبوں میں لکھیں۔

